

令和8年度学力検査問題

社 会

注意

- 1 監督者の開始の合図があるまで、この問題冊子を開かないでください。
- 2 問題は、1ページから9ページまであります。
- 3 解答は、全て解答用紙の所定の欄に記入してください。
- 4 解答用紙の※印の欄には、何も記入しないでください。
- 5 監督者の終了の合図で筆記用具を置き、解答面を下に向け、広げて机の上に置いてください。
- 6 解答用紙だけを提出し、問題冊子は持ち帰ってください。

1

由衣さんは、わが国の古代から近代の各時代の特色と、人々の暮らしを表にまとめた。表をみて、各問に答えなさい。

〈表〉

時代	古代	中世	近世	近代
時代の特色	律令に基づいて政治が行われ、唐からもたらされた文化の影響で①国際色豊かな文化が栄えた。	②武士による支配がしだいに広がり、東アジア世界との交流が盛んに行われた。	幕府と藩による支配のしくみが確立し、幕府は④貿易統制を行った。	⑥近代国家のしくみを整え、欧米の技術を学んで富国強兵が進められた。
人々の暮らし	租・調・庸などの税が課された。	③人々は団結を強め、共同で用水や山野を管理する惣がつくられた。	⑤都市が発展し、五街道や航路が整備され、人や物が行き来した。	れんが造りの建物が増え、ガス灯やランプが使われるようになった。

問1 下の□内は、由衣さんが、下線部①についてまとめたものである。

①、④の()にあてはまるものを、それぞれ一つ選び、記号を書きなさい。

〈資料I〉

① (a 法隆寺, b 東大寺) の正倉院には、資料Iのような、西アジアから伝わった宝物や、④ (c 聖武天皇, d 後醍醐天皇) が使用した品などが納められた。



問2 下の□内は、下線部②についてまとめたものである。〔 〕にあてはまる内容を、

「土地」と「御家人」の語句を使って書きなさい。

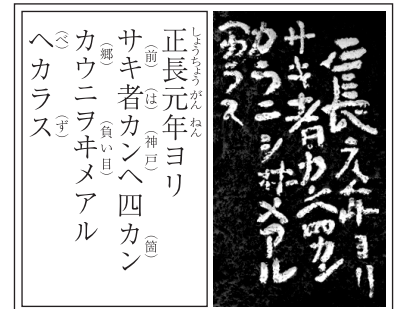
後鳥羽上皇は、幕府を倒そうと兵を挙げたが敗れた。その後、幕府は、上皇に味方した〔 〕ことで、支配を広げた。

問3 下の□内は、由衣さんが、下線部③に関してまとめたものである。〔 〕にあてはまる内容を、資料IIから

読み取れることをもとに書きなさい。

〈資料II〉奈良市柳生町の碑文

各地で土一揆が起こるようになり、資料IIから読み取れるように、〔 〕ことを岩に刻んだ人々もいた。



(奈良市教育委員会ホームページから作成)

問4 下線部④について、松前藩に最も関係が深いものを、次の1～4から一つ選び、番号を書きなさい。

- 1 オランダや中国と貿易を行い、生糸や絹織物、薬などを輸入した。
- 2 朝鮮との連絡や貿易を行い、生糸や木綿などを輸入した。
- 3 琉球王国の政治や外交を監督し、将軍の代わりごとに江戸へ使節を送らせた。
- 4 アイヌの人々と交易を行い、鮭などの海産物を米などと交換して利益を得た。

問5 下の□内は、下線部⑤についてまとめたものである。〔 〕にあてはまる内容を

書きなさい。
都市では、商人が同業者ごとに株仲間を作り、幕府や藩に税を納める代わりに、〔 〕という特権が認められ、大きな利益を上げた。

問6 下線部⑥について、次の1～4のできごとを、年代の古い方から順に並べ、番号で答えなさい。

- 1 新たな政治の方針を国内外に示すために、五箇条の御誓文が出された。
- 2 自由民権運動を受けて、政府は、国会を開設することを約束した。
- 3 政府は、藩を廃止して、府・県を置く廃藩置県を行った。
- 4 天皇が国民に与えるという形式で、大日本帝国憲法が發布された。

2

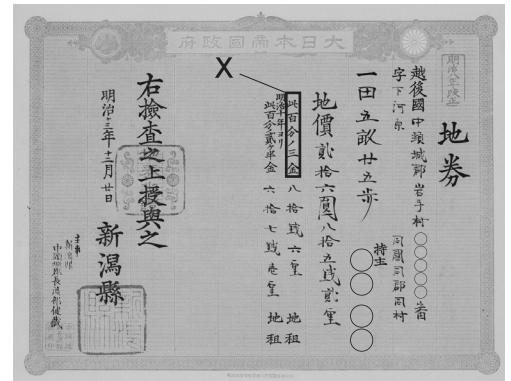
正子さんは、近代以降のおもなできごとをカードにまとめた。カードをみて、各問に答えなさい。ただし、同じ記号は同じ語句を示している。

〈カード〉

<p>A 中央集権国家を目指して、①<u>地租改正</u>が実施された。</p>	<p>B わが国では、②<u>大正デモクラシー</u>の風潮の中で、社会運動が広がった。</p>	<p>C (Y)で株価が暴落し、③<u>世界恐慌</u>が始まった。</p>	<p>D わが国で、④<u>高度経済成長</u>の時期に、技術革新が進んだ。</p>
---	---	---	---

問1 下の□内は、正子さんが、下線部①についてまとめたものである。[]にあてはまる内容を、資料I中のXの部分から読み取れることをもとに、「地価」の語句を使って書きなさい。

〈資料I〉



(国文学研究資料館ホームページから作成)

資料Iは地券であり、Xの部分には、「此百分ノ三金」と記されている。これは、それまでの収穫高の40%から50%程度の米を納める方法に代えて、[]を税として納めるようになったことを表している。下線部①により、政府の財政は安定した。しかし、のちにその税率は引き下げられた。

問2 下の□内は、下線部②についてまとめたものである。[①]にあてはまる内容を、「民衆」の語句を使って書きなさい。また、㊦の()にあてはまるものを一つ選び、記号を書きなさい。

わが国では、吉野作造が、天皇に主権があっても、政治に[①]べきだとする民本主義を唱えた。また、賃金の引き上げなどを求める㊦(a 打ちこわし, b 労働争議)がひんぱんに起こるようになった。

問3 正子さんは、下線部③の前後の時期について調べ、資料IIを作成した。下線部③が、わが国の生糸の貿易に与えた影響を、資料IIから読み取れることをもとに、Cのカードと資料IIの(Y)にあてはまる国名を使って書きなさい。

〈資料II〉 わが国の生糸輸出相手国と生糸輸出額の推移

年	(Y) (百万円)	フランス (百万円)	イギリス (百万円)	その他 (百万円)	合計 (百万円)
1928	687	35	4	7	733
1929	755	13	4	9	781
1930	399	8	3	7	417
1931	342	2	6	5	355

(「日本貿易精覧」から作成)

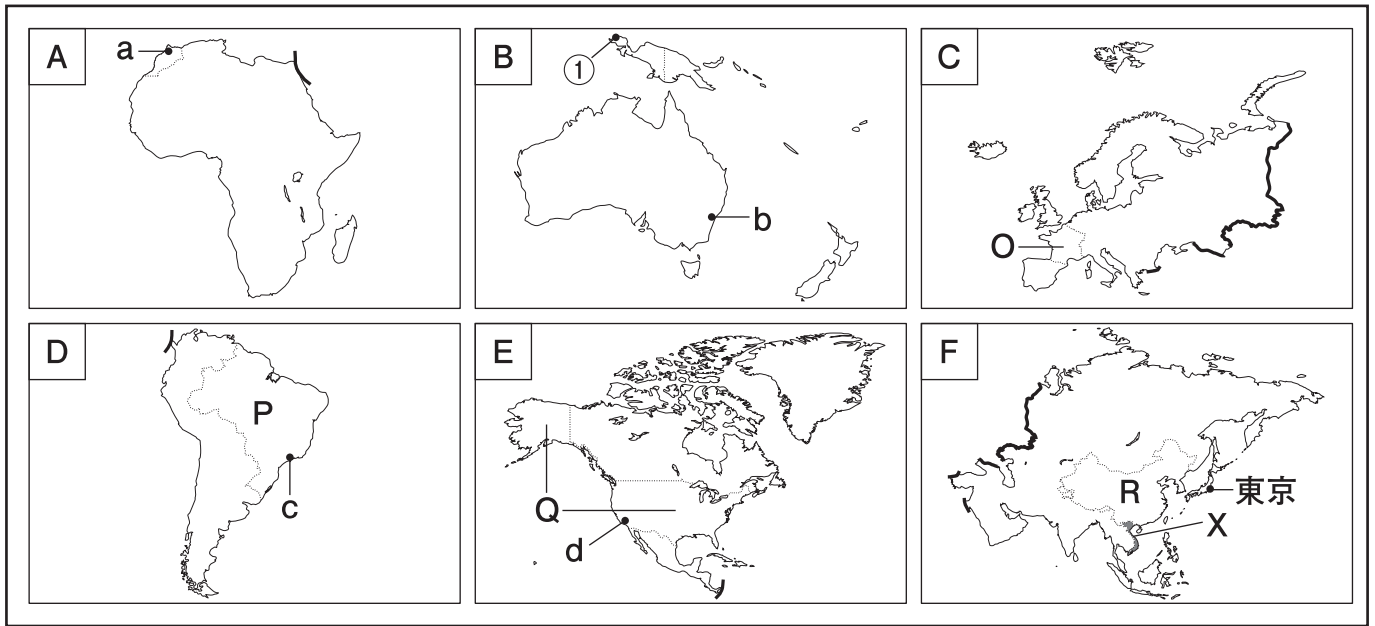
問4 下線部④について、同じ時期のわが国のできごとにあてはまるものを、次の1～4から一つ選び、番号を書きなさい。

- 1 ロンドン海軍軍縮条約を結び、国際協調の方針をとった。
- 2 公害対策基本法が制定され、公害への対策が強化されるようになった。
- 3 学制が公布され、6歳以上の子どもは全て小学校に通うように定めた。
- 4 国際連盟が発足し、わが国を含め42か国が加盟した。

3

光希さんは、世界の州や国の特色などについて調べるため、略地図を作成した。略地図のA～Fは、世界の六つの州を示している。略地図をみて、各問に答えなさい。

〈略地図〉



(～は州境を示す。略地図A～Fの図法、縮尺は同じではない。)

問1 東京との時差が最も大きい都市を、略地図中のa～dの都市から一つ選び、記号を書きなさい。

問2 表中の1～4は、略地図中のO～Rのいずれかの国を示している。Oの国にあてはまるものを、1～4から一つ選び、番号を書きなさい。

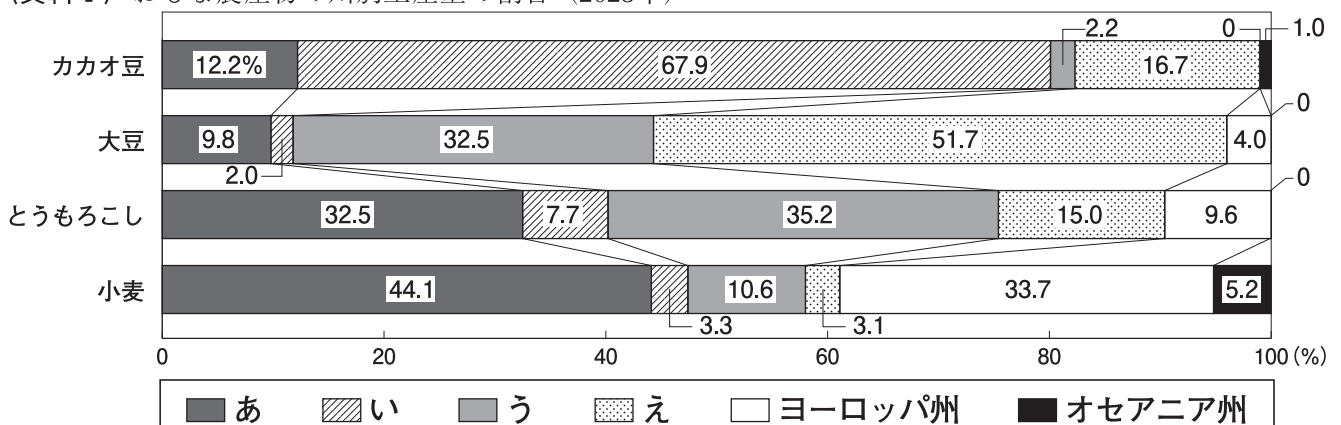
〈表〉

項目 国	一人あたり 国内総生産 (ドル)	65歳以上 人口割合 (%)	輸出額 (百万ドル)
	2022年	2022年	2022年
1	12 598	13.7	3 593 601
2	41 426	21.7	617 817
3	8 918	9.9	334 136
4	76 101	17.1	2 064 787

(「世界の統計2025」等から作成)

問3 資料I中のあ～えには、略地図A～Fの州のうち、ヨーロッパ州とオセアニア州以外の州があてはまる。DとEの州にあてはまるものを、あ～えからそれぞれ一つ選び、記号を書きなさい。

〈資料I〉おもな農産物の州別生産量の割合(2023年)



※ロシア連邦の農産物は、ヨーロッパ州に含む。

(2026年版「データブック オブ・ザ・ワールド」から作成)

問4 光希さんは、略地図中の①の都市の人々のくらしと自然環境との関わりについて調べ、ノートにまとめた。〔 ㊦ 〕, 〔 ㊧ 〕にあてはまる内容を書きなさい。

〈ノート〉

〈資料Ⅱ〉 ①の都市の雨温図

気温(°C) 降水量(mm)

年平均気温 27.1°C
年降水量 3193.8mm

〈資料Ⅲ〉 東京の雨温図

気温(°C) 降水量(mm)

年平均気温 15.8°C
年降水量 1598.2mm
(気象庁ホームページから作成)

〈写真〉

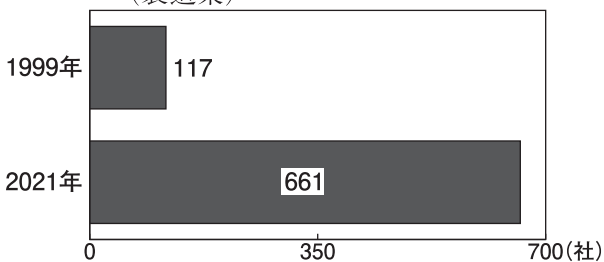
【考えたこと】

資料Ⅱ, Ⅲから, ①の都市では, 東京に比べて〔 ㊦ 〕ことがわかる。この気候にあわせて, ①の都市がある国の伝統的な建物は, 写真のように, 高床にして風通しをよくすることで, 建物の中に〔 ㊧ 〕ように工夫されている。

問5 下の□内は、光希さんが、略地図F中のXの国の工業についてまとめたものである。〔 ㊨ 〕にあてはまる内容を書きなさい。また、〔 ㊩ 〕にあてはまる内容を、資料Ⅵ中の輸出品目のうち、鉱産資源以外の輸出品目を使って書きなさい。

Xの国で、資料Ⅳのような変化がみられる理由の一つは、資料Ⅴのように、Xの国では日本と比べて、〔 ㊨ 〕からである。また、資料Ⅵから、Xの国の上位3位までの輸出品目と、輸出総額に占めるその品目の割合の変化をみると、2021年は1999年と比べて、〔 ㊩ 〕ことがわかる。このような変化がみられるXの国では、工業化が進んでおり、経済も成長している。

〈資料Ⅳ〉 Xの国に進出した日本企業数
(製造業)



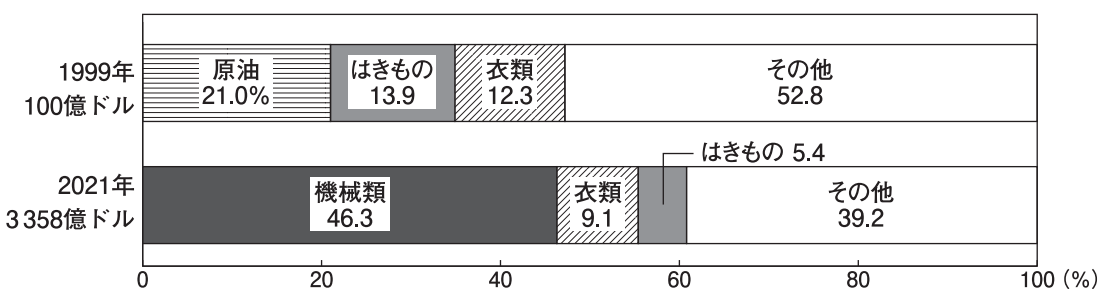
(「海外進出企業総覧2022」等から作成)

〈資料Ⅴ〉 Xの国と日本の一人あたり
1か月平均賃金(製造業)
(2021年)

国	項目	1か月平均賃金(ドル)
X		288
日本		2687

(「世界の統計2023」から作成)

〈資料Ⅵ〉 Xの国の輸出総額と輸出品目上位3位までの内訳の変化

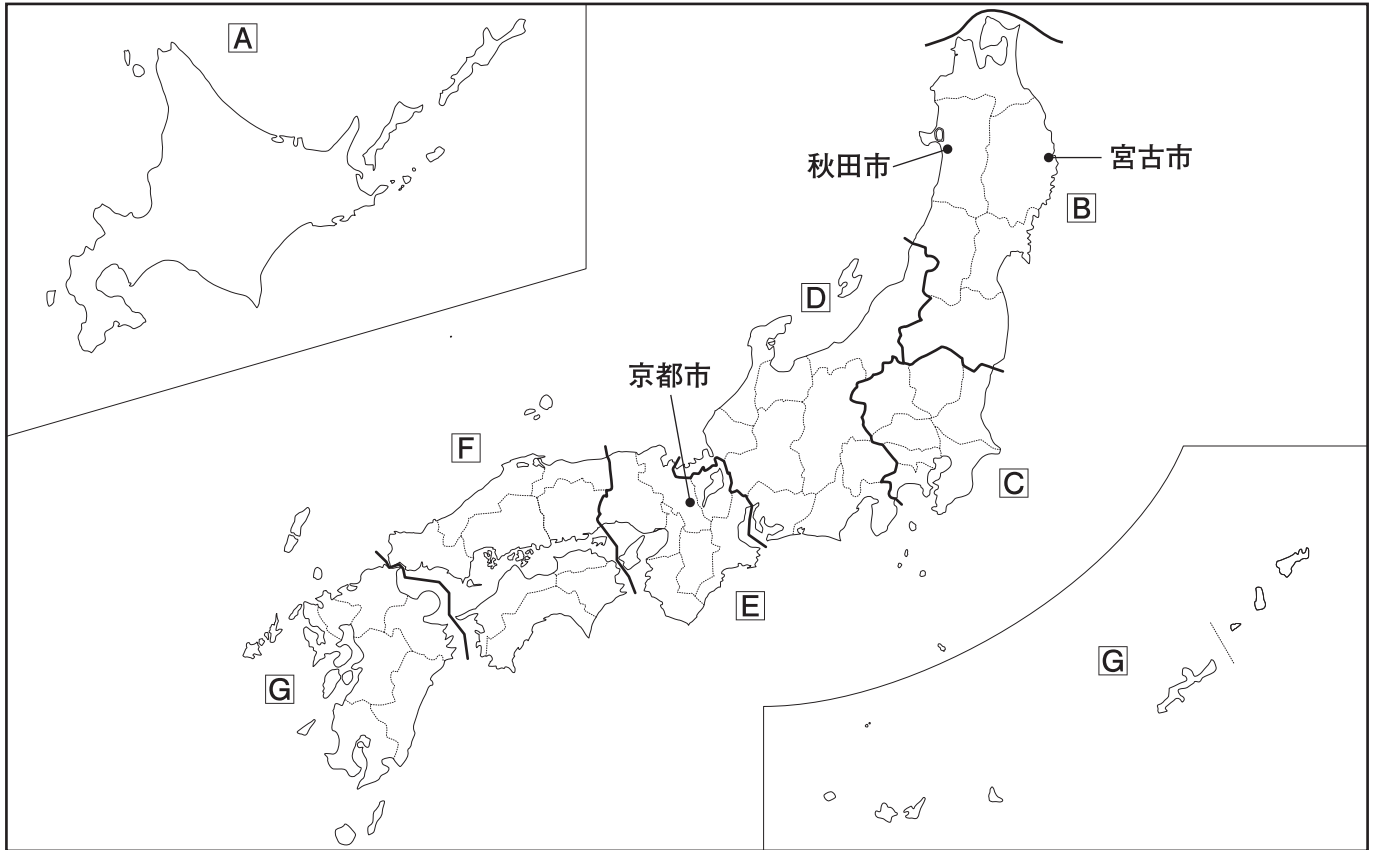


(2023/24年版「世界国勢図会」等から作成)

4

千春さんは、日本の七つの地方（中国・四国地方を一つの地方とする。）の特色を調べるため、略地図を作成した。略地図のA～Gは、日本の各地方を示している。略地図と資料をみて、各問に答えなさい。ただし、同じ記号は同じ地方を示している。

〈略地図〉

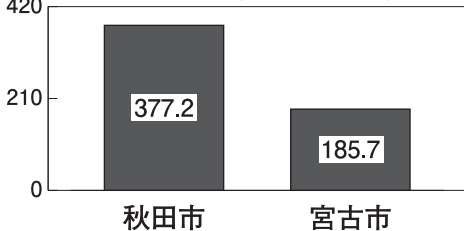


(～は地方の境界を示す。略地図，資料Ⅶの図法，縮尺は同じではない。)

問1 下の□内は、千春さんが、B地方の気候の特色についてまとめたものの一部である。〔㊦〕にあてはまる内容を、「山脈」の語句を使って書きなさい。また、〔㊧〕にあてはまる内容を、資料Ⅱ，Ⅲから読み取れることをもとに書きなさい。

B地方において、資料Ⅰのような違いがみられる理由の一つは、大陸から吹く季節風が、日本海側に〔㊦〕ことで、乾燥して太平洋側に吹くからである。また、太平洋側の地域において、1993年は〔㊧〕ことから、やませの影響があったと考えられる。

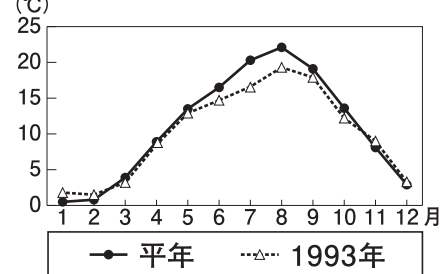
〈資料Ⅰ〉 秋田市，宮古市の降水量の
 (mm) 平年値 (12月～2月)



〈資料Ⅱ〉 宮古市の6～8月の
 日照時間

月	日照時間 (時間)	
	平年	1993年
6	152.6	116.0
7	133.9	96.7
8	153.2	116.8

〈資料Ⅲ〉 宮古市の月別平均気温



※資料Ⅰ～Ⅲの平年値の統計期間は、1991年～2020年

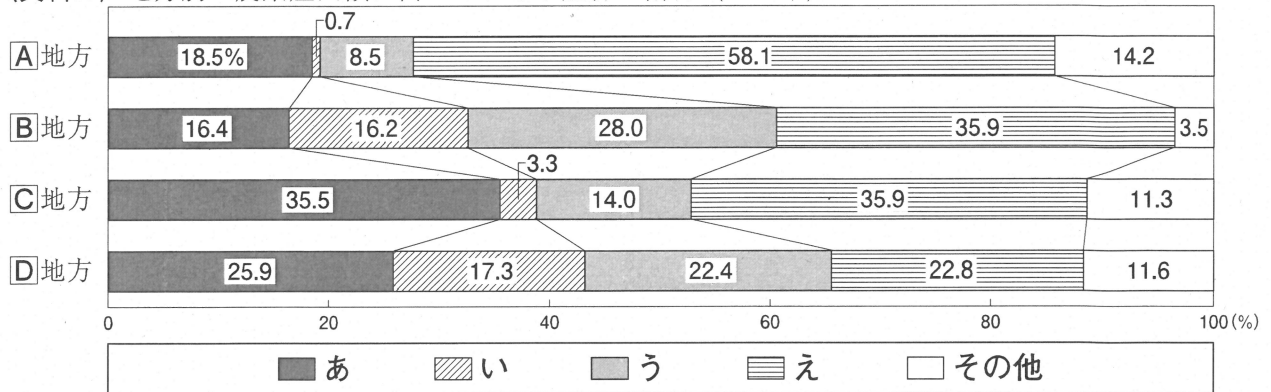
(資料Ⅰ～Ⅲは、気象庁ホームページから作成)

問2 下の□内は、千春さんが、G地方の自然環境と産業との関わりについてまとめたもの的一部分である。㊦，㊧の()にあてはまるものを、それぞれ一つ選び、記号を書きなさい。

G地方の沖縄県では、他の地方と比べて緯度が㊦ (a 高く，b 低く)，温暖であり，さんご礁などの自然環境や独自の文化を生かした，㊧ (c 第一次産業，d 第三次産業) の割合が特に高い。

問3 資料Ⅳは、略地図のA～D地方の農業産出額に占めるおもな産物の割合を示し、あ～えは、米、野菜、畜産、果実のいずれかを示している。米を示すものを、あ～えから一つ選び、記号を書きなさい。

〈資料Ⅳ〉 地方別の農業産出額に占めるおもな産物の割合（2023年）

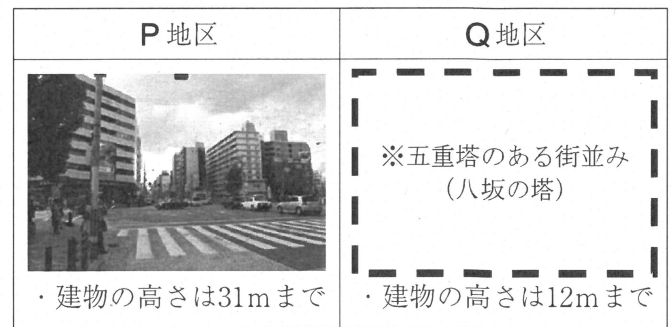


(2026年版「データでみる県勢」から作成)

問4 下の□内は、千春さんが、E地方の京都市における建造物の建設規制についてまとめたものの一部である。〔 〕にあてはまる内容を、資料Ⅴから読み取れることをもとに、「保存」の語句を使って書きなさい。

京都市では、資料Ⅴのように、地区によって建造物の建設規制に違いがある。その理由の一つは、P地区と比べてQ地区には、〔 〕ためである。

〈資料Ⅴ〉 京都市における建造物の建設規制（一部）



(京都市ホームページ等から作成)

問5 下の□内は、千春さんが、F地方とその他の地方の結びつきの変化についてまとめたもの一部である。〔 〕にあてはまる内容を、資料Ⅶ、Ⅷから読み取れることを関連づけて書きなさい。

大阪市中央卸売市場において、資料Ⅵに示す項目の取り扱い量や取り扱い総量に占める割合が変化した理由の一つは、〔 〕からである。

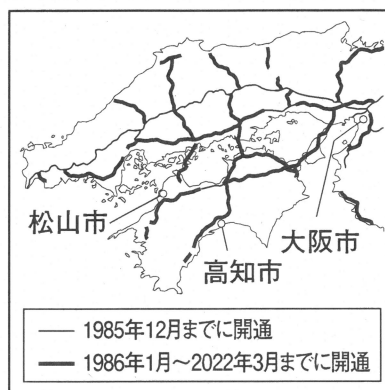
〈資料Ⅵ〉 大阪市中央卸売市場における高知県産のみょうがと愛媛県産の真鯛の取り扱い量と取り扱い総量に占める割合の変化

項目	年	1985	2022
高知県産 みょうが	量	4t	280t
	割合	(2.2%)	(99.1%)
愛媛県産 真鯛	量	304t	2645t
	割合	(8.5%)	(46.7%)

※「みょうが」とは農産物の一つ

(大阪市中央卸売市場年報等から作成)

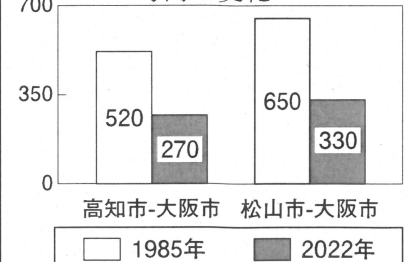
〈資料Ⅶ〉 高速道路網の変化



※高速自動車国道と本州四国連絡道路を示している。

(国土地理院ホームページ等から作成)

〈資料Ⅷ〉 高知市、松山市から大阪市までの自動車移動する時にかかる時間の変化



※1985年は、一部の区間で、自動車をフェリーに積んで移動した場合の時間を含む。

(国土交通省ホームページ等から作成)

5

正太さんと里穂さんの学級では、班ごとにテーマを決めて発表するため、調べた内容の一部を発表原稿にまとめた。発表原稿をみて、各問に答えなさい。

〈発表原稿〉

1班 テーマ 地方自治と政治参加

よりよい社会を形成するために、①地域の住民が参加して、民主主義を進めていく経験を積み重ねることができるので、地方自治は「民主主義の学校」とよばれています。

2班 テーマ 内閣と裁判所

わが国の②内閣は、国会の信任に基づいてつくり、国会に対して責任を負うしくみをとっています。また、③裁判所は、国民の権利や社会の秩序を保つ役割を担っています。

3班 テーマ 経済活動と国の役割

経済活動における政府のおもな役割の一つとして、④景気を安定させることがあります。また、⑤貿易によって、国家どうしが必要なものを取り引きしています。

4班 テーマ 家計と消費

私たちは所得を得て、企業が生産したものやサービスを消費しています。収入と支出のバランスを考え、適切な選択に基づいて、⑥消費生活を営む必要があります。

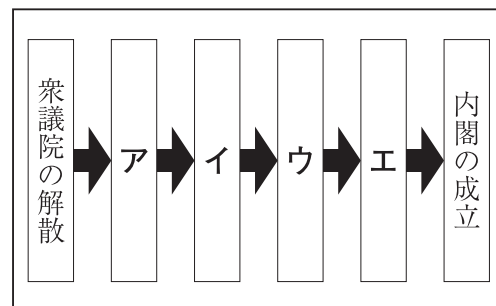
問1 下の□内は、下線部①について、正太さんが、地域の住民がもつ権利の一部をまとめたものである。(㉠)にあてはまる語句を書きなさい。また、㉡の()にあてはまるものを一つ選び、記号を書きなさい。

地域の住民は、必要な数の署名を集めることによって、地方公共団体の独自の法である(㉠)の制定や改廃を求めることができる。これは、住民による㉡(a 直接民主制, b 間接民主制)のしくみを取り入れられているからである。

問2 下線部②について、図Iは、里穂さんが、衆議院が解散されて内閣が成立するまでの流れをまとめたものであり、ア～エには、次の1～4のいずれかの内容があてはまる。イ、エにあてはまるものを、それぞれ一つ選び、番号を書きなさい。

- 1 国務大臣の任命
- 2 特別会(特別国会)の召集
- 3 衆議院議員総選挙の実施
- 4 内閣総理大臣の指名

〈図I〉



問3 下の□内は、下線部③について、三権分立と裁判所の権限をまとめたもの的一部分である。㉢の()にあてはまるものを一つ選び、記号を書きなさい。また、〔㉣〕にあてはまる内容を書きなさい。

国の権力は三つに分けられ、そのうち裁判所は㉢(a 立法権, b 司法権)を担っている。裁判所の中でも、最高裁判所が「憲法の番人」とよばれているのは、法律などが〔㉣〕からである。

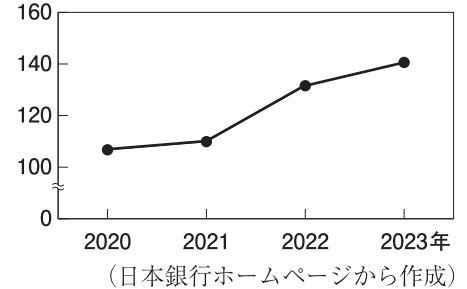
問4 下の□内は、下線部④について、景気変動と企業の活動や政府の政策との関係をまとめたものの一部である。Ⓐ, Ⓑの()にあてはまるものを、それぞれ一つ選び、記号を書きなさい。

好景気(好況)のときは、一般的に、企業の生産はⒶ(a 増加, b 減少)し、物価が上がり続けるⒷ(c インフレーション, d デフレーション)になりやすい。そこで政府は、景気の変動を安定させる政策を行う。

問5 下の□内は、下線部⑤について、資料Ⅰから読み取ったことをまとめたもの的一部分である。Ⓐ, Ⓑの()にあてはまるものを、それぞれ一つ選び、記号を書きなさい。

2020年と2023年の為替レートを比べると、2023年の方が、Ⓐ(a 円高, b 円安)の状況となっている。日本の企業がアメリカの企業から100ドルの製品を輸入すると、その製品の日本円に換算した価格は、2023年の方が、2020年よりⒷ(c 高く, d 安く)なる。

〈資料Ⅰ〉円とドルの為替レートの推移(年平均)



問6 下の□内は、下線部⑥について、正太さんと里穂さんが、資料Ⅱ～Ⅳをもとに会話した内容の一部である。〔 Ⓐ 〕にあてはまる内容を書き、〔 Ⓑ 〕にあてはまる内容を、資料Ⅲから読み取れることをもとに書きなさい。また、〔 Ⓒ 〕にあてはまる内容を、「一定期間内」の語句を使って書きなさい。

正太： 消費生活は、契約によって成り立っているね。売買の契約は原則として、何をいくらで売買するかについて、売る側と〔 Ⓐ 〕時点で成立するよ。

里穂： 資料Ⅱのように、消費生活についての相談が寄せられているのはどうしてかな。

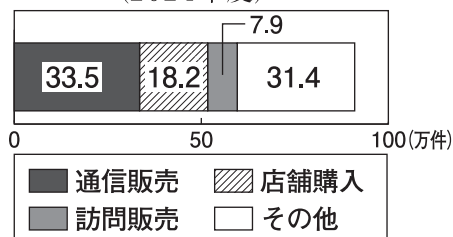
正太： その理由の一つとして、商品を売買するとき、売る側に比べて、買う側は、商品の品質・性能やサービスの内容などについての〔 Ⓑ 〕ことが考えられるよ。

里穂： 消費者を保護するために、どのような制度があるのかな。

正太： 資料Ⅳのような通知書を活用する制度があるよ。これは、訪問販売などによって〔 Ⓒ 〕という制度だよ。

里穂： 消費者を保護するさまざまなしくみなどを理解して、よりよい消費生活のあり方について考えていくことが大切だね。

〈資料Ⅱ〉販売購入形態別相談件数(2024年度)



(資料Ⅱ, Ⅲは、国民生活センターホームページ等から作成)

〈資料Ⅲ〉相談の具体的内容例

- 購入した菓子に、表示されていないアルコールが含まれていた。
- 低価格で1回限りの購入だと思って申し込んだが、実際は定期購入になっており、支払総額が高額になった。

〈資料Ⅳ〉通知書の例

契約解除通知書

次の契約を解除します。

契約年月日 ○○年○○月○○日

商品名 ○○○○

契約金額 ○○○○○円

販売会社名 ○○会社○○支店

担当者名 ○○○○氏

支払済の○○○○○円を返金し、商品を取引ってください。

○○年○○月○○日

福岡県○○市○○町○○丁目○番地

契約者 氏名

(福岡県ホームページから作成)

6

下の □内は、雄一さんが、国際社会におけるわが国の役割について調べ、作成した資料集をもとに、千里さんと会話した内容の一部である。会話文を読み、各問に答えなさい。

〈会話文〉

千里： 世界には地域によって、経済格差があるということを学習したね。

雄一： そうだね。先進国が多い地域と発展途上国が多い地域の位置関係から、この問題は（P）とよばれているよ。発展途上国では、社会資本の整備に課題がある国もあるよ。

千里： そのような国に対して、わが国は、これまでどのような支援をしてきたのかな。

雄一： わが国は、アジア州のA国の首都に対して、資料Iのように、〔 Q 〕ことで、支援を進めてきたよ。

千里： A国の首都に対して、わが国は大きく貢献してきたね。

雄一： そして、さらに、わが国の専門家がA国の首都の水道公社職員に対して〔 R 〕ことにより、資料IV、Vのような成果が上げられたよ。

千里： なるほど。この支援は、持続可能な支援だということができるね。

※水道公社とは、地方自治体が水道事業をより効率的に行うために設立した組織

〈資料集〉

〈資料I〉A国の首都の水道設備に対するわが国の支援(一部)

年	支援の内容
1994～1995	浄水場の改修等（無償）
1997～1999	配水網の更新等（無償）
2001～2003	浄水場の拡張等（無償）

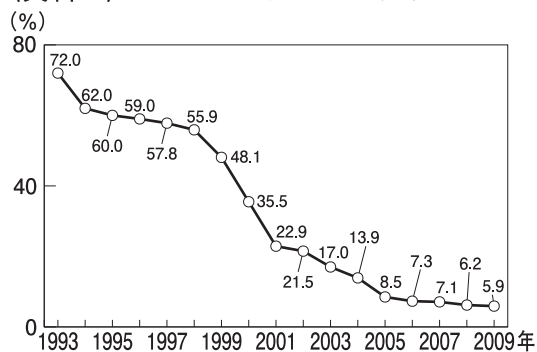
〈資料II〉2003年から始まったA国の首都の水道事業に対するわが国の取り組み(一部)

わが国の専門家は、A国の首都の水道公社職員に対して、自ら水道設備の運転・維持管理ができるように、作業手順書やマニュアルの作成、活用を指導した。

〈資料III〉2003年から始まったわが国の取り組みにより、A国の首都の水道公社職員が身に付けた技術(一部)

- ・ 配水管理分野の技術
- ・ 電気施設の維持管理の技術
- ・ 水処理分野の技術
- ・ 機械設備の維持管理の技術
- ・ 水質分野の技術

〈資料IV〉A国の首都の無収水率の推移



※無収水率とは、配水された水量のうち、水漏れ等で家庭等に届かない水量の割合

〈資料V〉A国の首都における水道設備の状況の変化

項目	1993	2009
給水普及率	25%	90%
1日あたりの給水時間	10時間	24時間
飲用	不可	可能

(資料I～Vは、JICAホームページ等から作成)

問1 会話文の（P）にあてはまる語句を書きなさい。

問2 会話文の〔 Q 〕にあてはまる内容を、資料Iから読み取れることをもとに、「整備」の語句を使って書きなさい。

問3 会話文の〔 R 〕にあてはまる内容を、資料II、IIIから読み取れることを関連づけて書きなさい。